

LIMITES DE FONCTIONS : 4 EXERCICES CORRIGÉS

EXERCICE 1

Déterminer les limites suivantes.

a. $\lim_{x \rightarrow +\infty} \frac{1}{x}$ b. $\lim_{x \rightarrow -\infty} \frac{1}{x^2} + x$ c. $\lim_{x \rightarrow +\infty} x^3 + \frac{1}{4x-5}$ d. $\lim_{x \rightarrow +\infty} \frac{3}{3x^4 + 2x - 6}$

a. Par quotient de limites, $\lim_{x \rightarrow +\infty} \frac{1}{x} = 0^+$.

b. Par produit de limites : $\lim_{x \rightarrow -\infty} x^2 = +\infty$.
D'où, par quotient de limites : $\lim_{x \rightarrow -\infty} \frac{1}{x^2} = 0^+$.

Par somme de limites : $\lim_{x \rightarrow -\infty} \frac{1}{x^2} + x = -\infty$.

c. • Par produits de limites : $\lim_{x \rightarrow +\infty} x^3 = +\infty$.
• Par produit et différence de limites : $\lim_{x \rightarrow +\infty} 4x - 5 = +\infty$.
Donc, par quotient de limites : $\lim_{x \rightarrow +\infty} \frac{1}{4x-5} = 0^+$.

• Par somme de limites : $\lim_{x \rightarrow +\infty} x^3 + \frac{1}{4x-5} = +\infty$.

d. Par produits de limites : $\lim_{x \rightarrow +\infty} x^4 = +\infty$.

Donc, par produits et sommes de limites : $\lim_{x \rightarrow +\infty} 3x^4 + 2x - 6 = +\infty$.

Par quotient de limites : $\lim_{x \rightarrow +\infty} \frac{3}{3x^4 + 2x - 6} = 0^+$.

EXERCICE 2

Déterminer les limites suivantes.

a. $\lim_{x \rightarrow 3} \sqrt{\frac{2x}{5-x^2}}$ b. $\lim_{x \rightarrow \frac{\pi}{3}} \frac{1}{\sin x}$ c. $\lim_{x \rightarrow -1} \frac{x+|x|}{2}$ d. $\lim_{x \rightarrow -100} x(x+100)$ e. $\lim_{x \rightarrow 0} (3x^2 - 4x + 3)$

a. La fonction dont on cherche la limite en 3 est définie (à faire) sur $] -\infty; -\sqrt{5}[\cup] 0; \sqrt{5}[$: cet intervalle ne contient pas 3, donc **cette limite n'existe pas !**

En -3 , cela aurait un sens (erreur du manuel ?) :

$$\lim_{x \rightarrow -3} 5 - x^2 = 5 - (-3)^2 = -4 \quad \text{et} \quad \lim_{x \rightarrow -3} 2x = -6$$

donc, par quotient de limites : $\lim_{x \rightarrow -3} \frac{2x}{5-x^2} = \frac{-6}{-4} = \frac{3}{2}$.

Or, $\lim_{x \rightarrow \frac{3}{2}} \sqrt{X} = \sqrt{\frac{3}{2}}$ donc, par composition de limites : $\lim_{x \rightarrow -3} \sqrt{\frac{2x}{5-x^2}} = \sqrt{\frac{3}{2}}$.

b. $\lim_{x \rightarrow \frac{\pi}{3}} \sin x = \sin \frac{\pi}{3} = \frac{\sqrt{3}}{2}$ donc, par quotient de limites : $\lim_{x \rightarrow \frac{\pi}{3}} \frac{1}{\sin x} = \frac{1}{\frac{\sqrt{3}}{2}} = \frac{2}{\sqrt{3}}$.

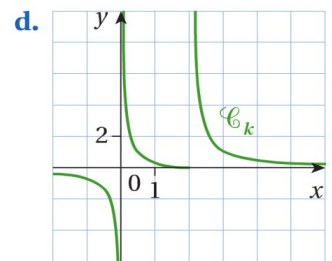
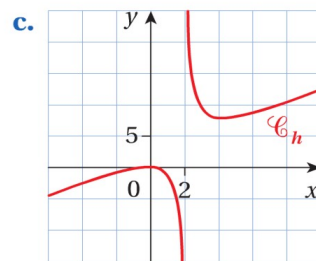
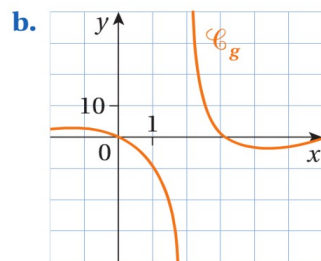
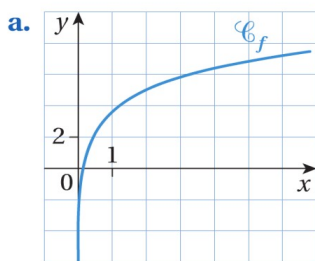
c. $\lim_{x \rightarrow -1} |x| = |-1| = 1$ donc, par somme et quotient de limites : $\lim_{x \rightarrow -1} \frac{x+|x|}{2} = \frac{-1+1}{2} = 0$.

d. À faire (produit de limites) : $\lim_{x \rightarrow -100} x(x+100) = 0$.

e. À faire (produits et sommes...) : $\lim_{x \rightarrow 0} 3x^2 - 4x + 3 = 3$.

EXERCICE 3

À l'aide d'une lecture graphique, conjecturer, si elles existent, les limites à gauche et à droite en 0, puis en 2.



a. • La fonction ne semble pas définie « à gauche de 0 », donc pas de limite.

• À « droite de 0 » : $\lim_{x \rightarrow 0, x > 0} f(x) = -\infty$.

• $\lim_{x \rightarrow 2} f(x) = 5$.

b. • $\lim_{x \rightarrow 0, x < 0} f(x) = \lim_{x \rightarrow 0, x > 0} f(x) = 0$, autrement dit $\lim_{x \rightarrow 0} f(x) = 0$.

• $\lim_{x \rightarrow 2, x < 2} f(x) = -\infty$ et $\lim_{x \rightarrow 2, x > 2} f(x) = +\infty$.

c. • $\lim_{x \rightarrow 0, x < 0} f(x) = \lim_{x \rightarrow 0, x > 0} f(x) = 0$, autrement dit $\lim_{x \rightarrow 0} f(x) = 0$.

• $\lim_{x \rightarrow 2, x < 2} f(x) = -\infty$ et $\lim_{x \rightarrow 2, x > 2} f(x) = +\infty$.

d. • $\lim_{x \rightarrow 0, x < 0} f(x) = -\infty$ et $\lim_{x \rightarrow 0, x > 0} f(x) = +\infty$.

• $\lim_{x \rightarrow 2, x < 2} f(x) = 0$ et $\lim_{x \rightarrow 2, x > 2} f(x) = +\infty$.

EXERCICE 4

Soit la fonction f définie sur $D_f =]-\infty ; 2[\cup]2 ; +\infty[$ par : $f(x) = \frac{x+2}{3x-6}$.

1. a. Étudier le signe de f sur $]-\infty ; 2[$.

b. Déterminer $\lim_{\substack{x \rightarrow 2 \\ x < 2}} f(x)$.

c. Donner une interprétation graphique de ce résultat.

2. Déterminer les limites en l'infini de $f(x)$, puis donner une interprétation graphique de ce résultat.

3. Étudier le signe de $f(x) - \frac{1}{3}$ puis donner une interprétation graphique de ce résultat.

1. a. Sur $]-\infty ; 2[$:

x	$-\infty$	-2	2
$x+2$	$-$	0	$+$
$3x-6$	$-$	\vdots	$-$
$f(x)$	$+$	0	$-$

b. $\lim_{x \rightarrow 2, x < 2} x+2 = 4$ et $\lim_{x \rightarrow 2, x < 2} 3x-6 = 0^-$ donc, par quotient de limites : $\lim_{x \rightarrow 2, x < 2} f(x) = -\infty$.

c. La droite d'équation $x=2$ est une asymptote verticale à la courbe représentative de f .

2. Pour tout réel x de D_f tel que $x \neq 0$: $\frac{x+2}{3x-6} = \frac{x \left(1 + \frac{2}{x}\right)}{x \left(3 - \frac{6}{x}\right)} = \frac{1 + \frac{2}{x}}{3 - \frac{6}{x}}$.

Or, $\lim_{x \rightarrow -\infty} \frac{2}{x} = \lim_{x \rightarrow -\infty} \frac{6}{x} = 0^-$ donc, par sommes et quotient de limites : $\lim_{x \rightarrow -\infty} f(x) = \frac{1}{3}$.

De même : $\lim_{x \rightarrow +\infty} f(x) = \frac{1}{3}$.

Autrement dit, la droite d'équation $y = \frac{1}{3}$ est une asymptote horizontale à la courbe représentative de f .

3. Pour tout x de D_f , $f(x) - \frac{1}{3} = \frac{x+2}{3x-6} - \frac{1}{3} = \frac{x+2-(x-2)}{3(x-2)} = \frac{4}{3(x-2)}$

donc $f(x)$ est du signe de $x-2$:

x	$-\infty$	2	$+\infty$
$f(x)$	$-$	\parallel	$+$

Donc :

- sur $]-\infty ; 2[$, la courbe représentative de f est toujours au-dessous de son asymptote horizontale ;
- sur $]2 ; +\infty[$, la courbe représentative de f est toujours au-dessus de son asymptote horizontale.